

DIPLÔME NATIONAL DU BREVET
SESSION 2014

**ÉPREUVE D'HISTOIRE - GÉOGRAPHIE ET
D'ÉDUCATION CIVIQUE**

Durée de l'épreuve : 2 heures
Coefficient : 2

Histoire : /13 points

Géographie : /13 points

Education civique : /10 points

Expression écrite et orthographe : /4 points

Note finale : /40 points

ATTENTION : Les candidats répondent directement sur le sujet.
Agrafer le sujet dans le bas de la copie d'examen.

Ce sujet comporte 12 pages numérotées de 1/12 à 12/12.

L'usage du dictionnaire et de la calculatrice n'est pas autorisé.

PREMIERE PARTIE : HISTOIRE (13 points)

I – QUESTIONS (6 points)

1 – Repères historiques du collège (3 points)

a) Identifiez les monuments suivants ...

-... en utilisant les termes : une église gothique, le Parthénon, un Château de la Renaissance, une église romane

-.... en utilisant les dates : X^e / XII^e siècles ; XII^e / XV^e siècles ; V^e siècle avant J.-C. ; XV^e-XVI^e siècles.

b) Trois de ces monuments ont une fonction religieuse. Quel est l'intrus ?

.....



•

□ siècle



•

□ siècle



•

□ siècle



•

□ siècle

2 – En rédigeant un développement construit, vous expliquerez pourquoi on dit que la Première Guerre mondiale est une « guerre totale ». (3 points)

A large rectangular box containing 25 horizontal dotted lines for writing a developed response.

II – TRAVAIL SUR DOCUMENT (7 points)

Couverture du magazine "Vu" - 17 juin 1936 © Musée de l'Histoire Vivante - Montreuil



1 – Quelle coalition politique gagne les élections législatives en France en 1936 ? Citez deux partis la constituant. (2 points)

.....

.....

.....

2 – Dans quelles circonstances (économiques, sociales, politiques) ces élections ont-elles lieu ? (3 points)

.....

.....

.....

3 – Ce document illustre une mesure prise après la victoire de cette coalition. Laquelle ? (1 point)

.....

.....

.....

4 – Cette image de bonheur concerne-t-elle vraiment tous les Français (justifier votre réponse) ? (1 point)

.....

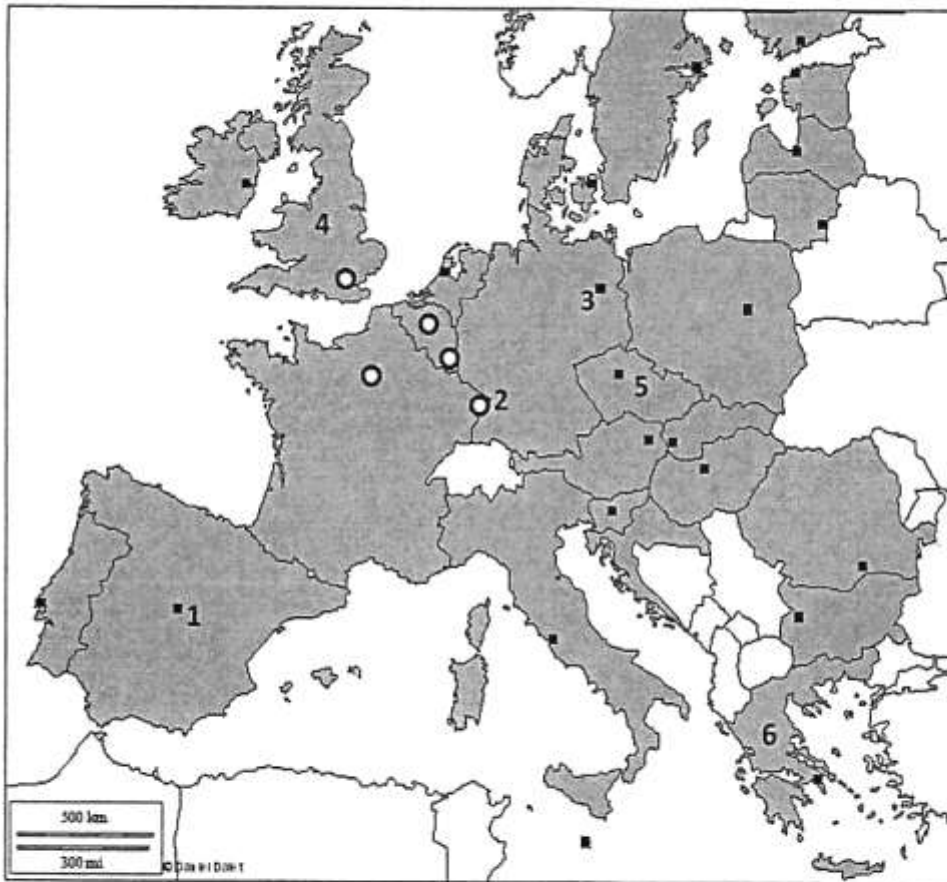
.....

.....

DEUXIEME PARTIE : GEOGRAPHIE (13 points)

I – QUESTIONS (5 points)

1 – Répondez aux questions suivantes à partir de la carte. (3 points)



a) Complétez la carte et la légende :

■

○ Capitale institutionnelle de l'UE

○ Ville mondiale

■ Autre métropole européenne

b) Ecrivez dans le tableau ci-dessous le nom des villes et des Etats numérotés sur la carte :

Nom des villes		Nom des Etats	
1	4
2	5
3	6

2 – Faites correspondre chaque titre (colonne de droite) avec le schéma qui convient (colonne de gauche) (2 points)



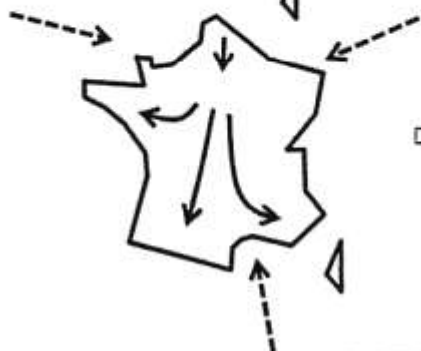
Les métropoles, espaces-moteurs du dynamisme français



Des territoires au dynamisme contrasté

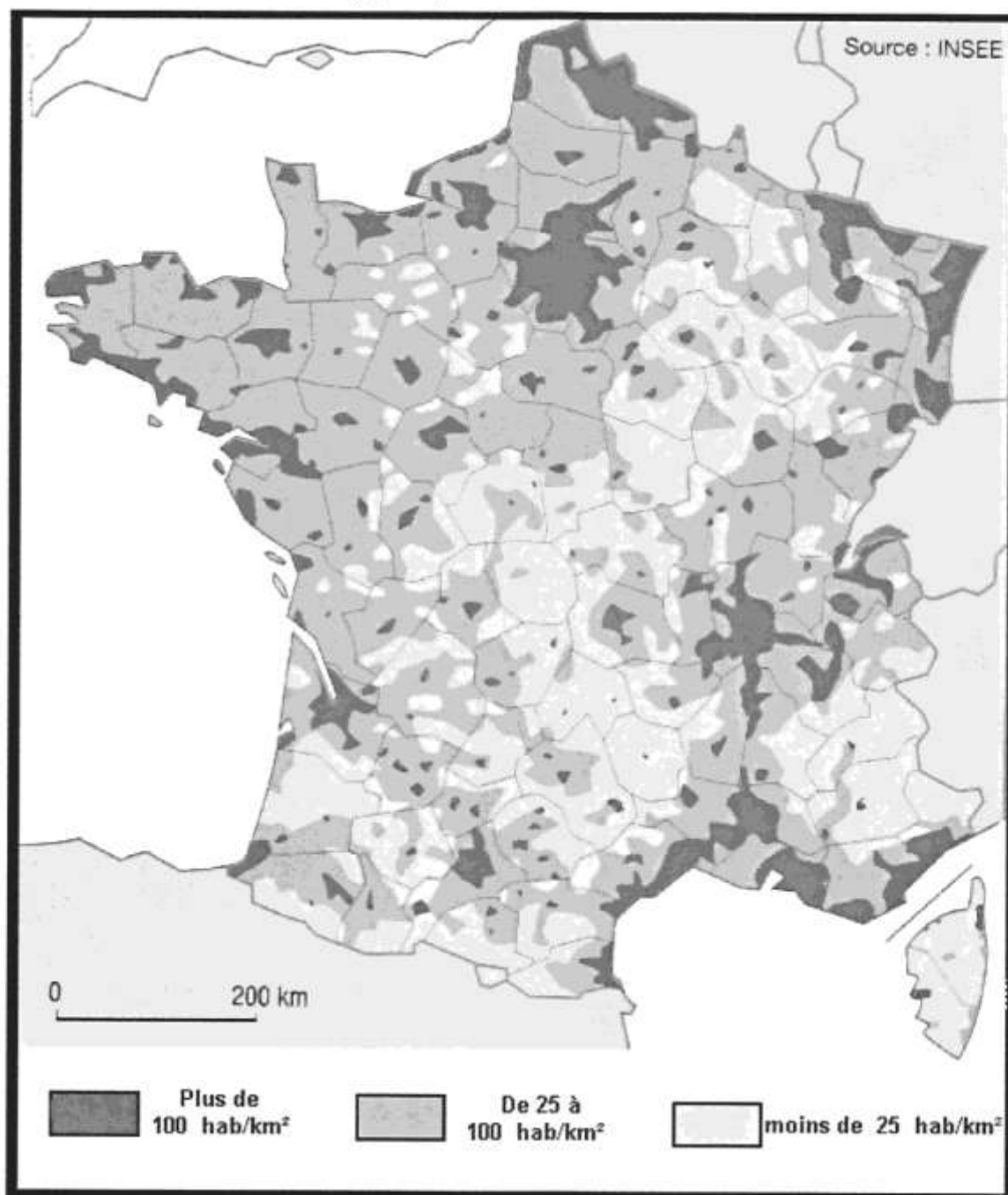


Un territoire dynamisé par les flux migratoires



Un territoire bien relié à l'Europe et au monde

II – TRAVAIL SUR DOCUMENT (8 points) :



1 – Donnez une définition de la densité. (1 point)

.....

.....

.....

2 – A l'aide de la carte et de vos connaissances nommez quatre espaces fortement peuplés. Numérotez-les et localisez-les sur la carte. (4 points)

.....
.....
.....

3 – Donnez trois explications aux fortes densités. (1,5 point)

.....
.....
.....
.....
.....
.....
.....
.....
.....
.....
.....

4 – Il manque une donnée importante sur la carte-document, laquelle ? (0,5 point)

.....
.....

5 – Donnez un titre à la carte. (1 point)

.....
.....

TROISIEME PARTIE : EDUCATION CIVIQUE (10 POINTS)

I – QUESTIONS (5 points) :

1 – La mise en place d'un système de Sécurité sociale en 1945 respecte deux valeurs républicaines : l'égalité et la fraternité. Expliquez pourquoi. (2 points)

.....

.....

.....

.....

.....

.....

2 – Citez deux institutions de l'ONU : l'une visant à garantir la sécurité collective, l'autre à promouvoir le développement. (2 points)

-
-

3 – Citez deux symboles de la République française. (1 point)

-
-

.....

II – TRAVAIL SUR DOCUMENT (5 points) :

Extraits de la Constitution de la V^e République

ARTICLE 5.

Le Président de la République veille au respect de la Constitution. Il assure, par son arbitrage, le fonctionnement régulier des pouvoirs publics ainsi que la continuité de l'État. [...]

ARTICLE 6.

Le Président de la République est élu pour cinq ans au suffrage universel direct.

Nul ne peut exercer plus de deux mandats consécutifs. [...]

ARTICLE 7.

Le Président de la République est élu à la majorité absolue des suffrages exprimés. Si celle-ci n'est pas obtenue au premier tour de scrutin, il est procédé [...] à un second tour. Seuls peuvent s'y présenter les deux candidats qui [...] se trouvent avoir recueilli le plus grand nombre de suffrages au premier tour. [...]

ARTICLE 8.

Le Président de la République nomme le Premier ministre. Il met fin à ses fonctions sur la présentation par celui-ci de la démission du Gouvernement.

Sur la proposition du Premier ministre, il nomme les autres membres du Gouvernement et met fin à leurs fonctions. [...]

ARTICLE 12.

Le Président de la République peut, après consultation du Premier ministre et des présidents des assemblées, prononcer la dissolution de l'Assemblée nationale. [...]

1 – De quand date cette constitution ? Qui en fut le premier Président ? (1 point)

.....
.....
.....
.....
.....

2 – Souligner dans le texte un élément prouvant que la France est une démocratie. (1 point)

3 – Quel pouvoir le Président de la République exerce-t-il ? Quel est la durée de son mandat ? (1 point)

.....
.....
.....

4 – Dans l'article 12, il est question *des présidents des assemblées*. Quel est le nom de ces assemblées ? Quel pouvoir exercent-elles ? (1,5 point)

.....
.....
.....
.....

5 – Que se passe-t-il après la dissolution de l'Assemblée nationale ? (0,5 point)

.....
.....
.....